

8.

f a s i k ü l

YAZ

2.
sınıf

→ TATİLİM ←

10 hafta 10 fasikül

Bilmeceler Deneyler

Okuma Anlama Metinleri

Şifreli işlemler

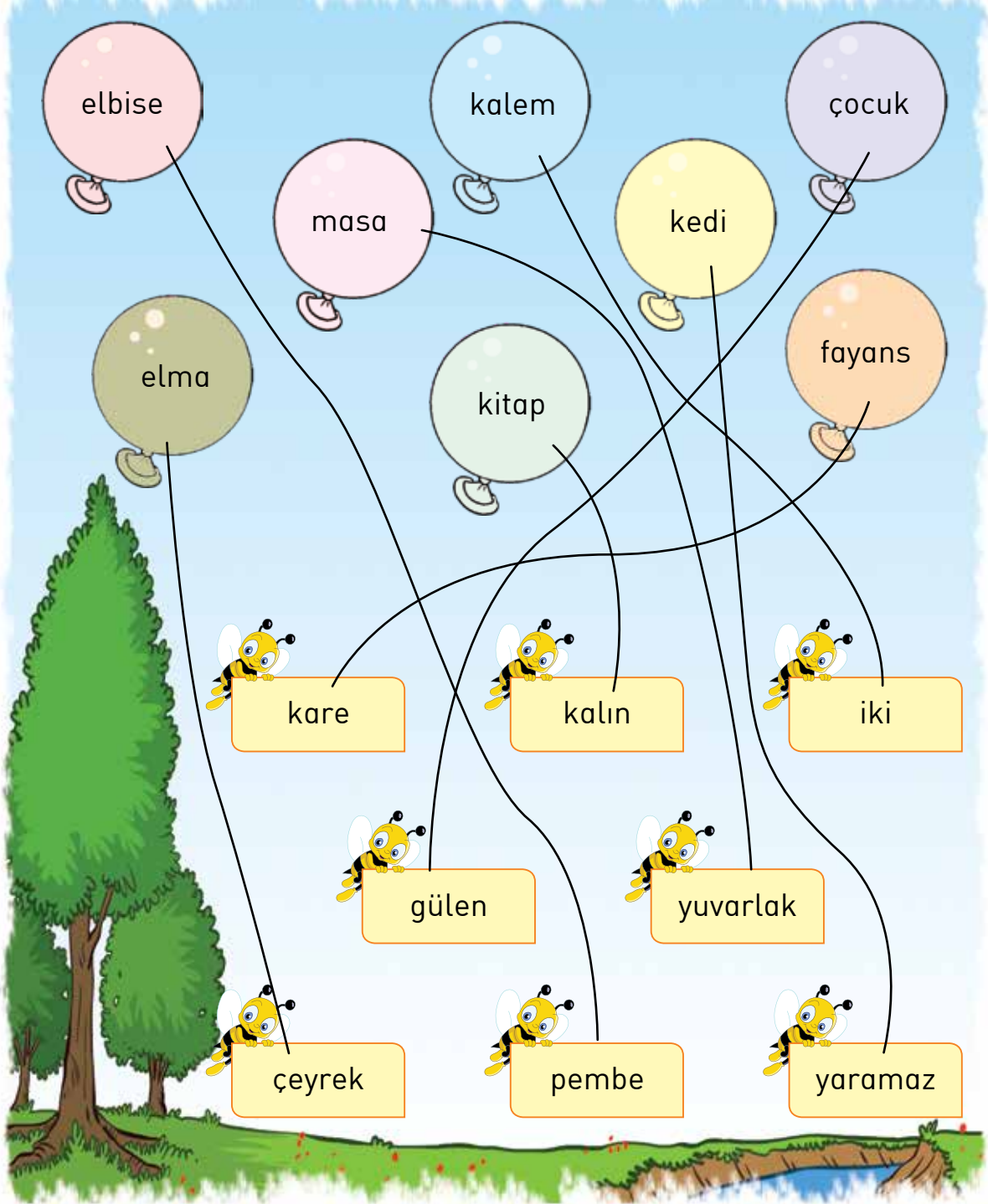
Bulmacalar

Fıkralar

çalışkan
yayınları

Adların Özellikleri

Balonlardaki adları arıların tuttuğu kartlarda yazılı olan sözcüklerle eşleştirin.





Saat Kaç?

Doğru saatleri işaretleyin.




- 08.00
 12.40
 08.10



- 06.15
 06.45
 09.30




- 12.35
 07.00
 07.55



- 03.30
 06.15
 03.15




- 06.20
 06.04
 04.30



- 11.15
 03.55
 11.30



- 03.30
 03.06
 06.15



- 03.15
 03.03
 03.00

Bir Telefon Yapalım

Malzemeler:

- İki adet ilaç kutusu veya plastik bardak,
- on metre kadar iplik,
- ince kâğıt,
- yapıştırıcı.



İki adet plastik bardağın altını delip ipin uçlarını geçirelim. Arkadaşınız bardağı kulağına dayarken, siz de diğer bardağın içine konuşun. İpliğin ilettiği sesi duya-bilmeniz için iplerin gergin tutulması gerekmektedir.

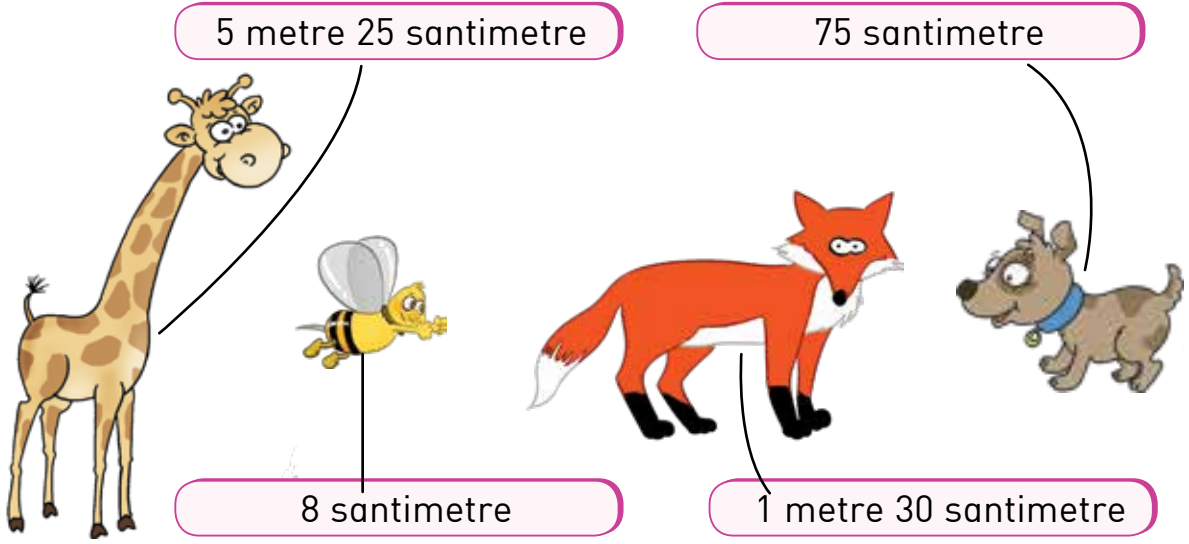
Bardak yerine teneke ilaç kutuları da kullanabiliriz. Bu durumda, ilaç kutularının altını çıkarıp ince bir kâğıtla kapla-manız, sonra da bu kâğıdı delip iplikleri geçirmeniz gerekmektedir.






Uzunlukları Ölçelim

Hayvanların boylarını tahmin edin. Görsellerle uzunlukları eşleştirin.



Görseli inceleyin. Boşlukları doldurun.



☆ Kerim'in boyu1..... metre.....30..... santimetredir.

☆ Güneş'in boyu1..... metre.....10..... santimetredir.

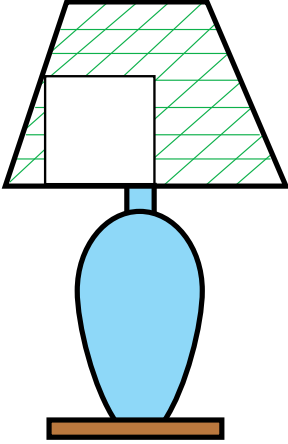
☆ Duru'nun boyu1..... metre.....15..... santimetredir.

2. Sınıf Yaz Tatilim / 8. fasikül

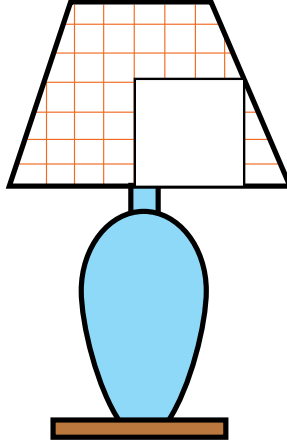


İfreyi Bulalım

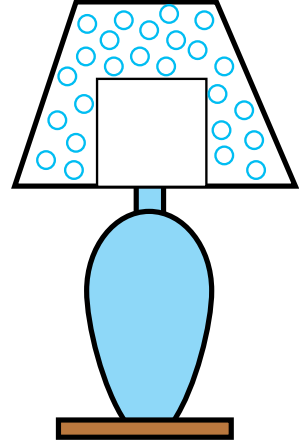
Abajurların eksik parçalarını eşleştirip sözcükleri altlarına yazarak bilgiye ulaşın.



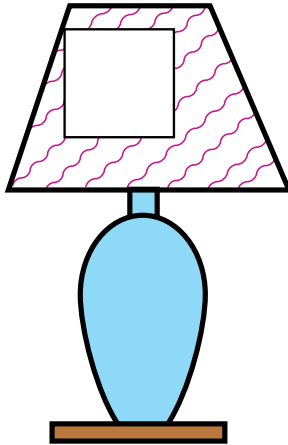
Baykuşlar



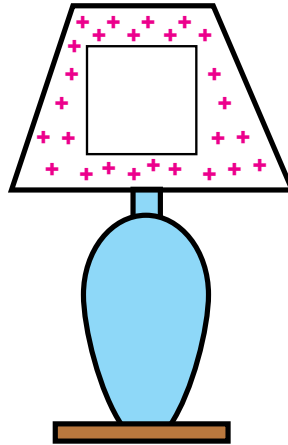
kafalarını



270




derece



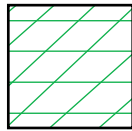
döndürebilirler



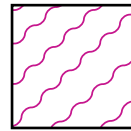
döndürebilirler



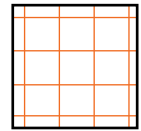
270



baykuşlar



derece



kafalarını

Bilgi:

Baykuşlar kafalarını 270 derece döndürebilirler



Okuma - Anlama

İlkbahar

Bir senede dört mevsim var
Birbirini kovalar
İlkbahar, yaz, sonbahar, kış
Çiçekli, karlı bir akış
İlkbaharda canlanır yer
Kırlar hep yeşiller giyer
Döner geline her ağaç
Süslü bir etektir yamaç
Dere akar çağıl çağıl
Kuzularla dolar ağıl
Şimdi bakarsın gök nurlu
Şimdi bakarsın yağmurlu
Güneş bir doğar bir kaçar
Hava bir kapar bir açar
Yusuf Ziya ORTAÇ



Hatırlayalım

Şiir yazar kişilere şair denir.

❖ Şair şiirde neden söz ediyor?

Mevsimlerden söz ediyor.

❖ Şiire göre ilkbaharda neler yaşanır?

Canlanır her yer, kırlar yeşillenir, ağaçlar gelir.

❖ Sizin en çok sevdiğiniz mevsim hangisidir?

İlkbahar



Şiirle ilgili olan görselleri işaretleyin.



Sıra Sende

En sevdiğin mevsimi anlatan bir şiir yazıp, resimle.

ŞİİR	RESİM
Kuzular meleşir Kuşlar cıvıldaşır İnsan mutlu olur İlkbahar gelince	





Noktalama İşaretleri

Yay ayraçla () belirtilen yerlere uygun noktalama işaretlerini koyun.



Bu Kediye Et Nerede ()

Nasreddin Hoca ()'nin canı bir gün et yemeği çeker (.)
Kasabaya gidip iki kilo et alır (,) eve gönderir (,)



Hoca()nın karısı, et yemeğini pişirirken komşuları gelir (.)
Kadın eti komşularına ikram eder (.)



Akşam olunca eve gelen Hoca (')yı sofrada bulgur pilavı
karşılar (.) Hoca şaşırır (!)

— Hanım, et yemeği neden yapmadın (?) der (.)

Karısı (,;)

— Hiç sorma efendi (.) Gönderdiğin eti kedi yedi (.)

Hoca sofradan sinirli sinirli kalkar (,) kediyi tutar (.) Kedinin
çok zayıf olduğunu görünce el terazisi ile tartar (.) Kedi tam
iki kilo gelir (.)



Hoca () karısına bakarak (:)

— Bak hatun (,;) Bu kedi ise, et nerede (?) Bu et ise kedi
nerede (?) der (.)



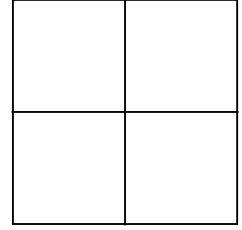

çalışkan
yayımları




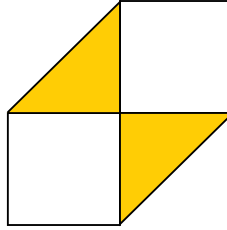
Kutu Yapalım

Malzemeler:

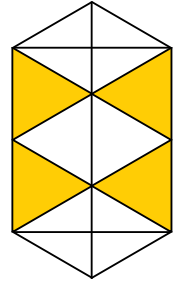
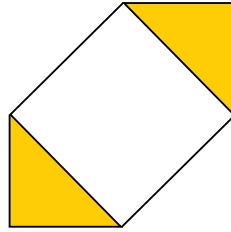
- Renkli el işi kâğıdı,
- Yapıştırıcı



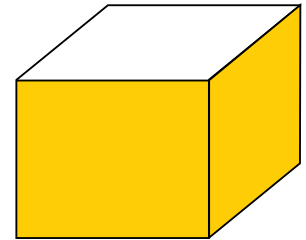

1. Kare şeklindeki el işi kâğıdımızı önce ikiye, daha sonra dörde katlayınız.




2. Elde ettiğimiz küçük karenin ortasına doğru iki taraflı katlayınız.



3. Katladığımız tüm kenarları açınız, katlı duran kenarları ortaya katlayınız.



4. Kenarları dik konuma getirerek açık olan köşelerden tutup kaldırın ve içe doğru katlayınız.



5. Diğer köşeyi de aynı şekilde katlayınız, kutunuz hazır.

2. Sınıf Yaz Tatilim / 8. Fasikül



Geometrik Şekiller



Görselleri inceleyerek soruları cevaplayın.



- 6 yüzü olan kaç cisim vardır?
- 5 yüzü olan kaç cisim vardır?
- 8 köşesi olan kaç cisim vardır?
- 6 köşesi olan kaç cisim vardır?
- Köşesi olmayan kaç cisim vardır?
- 12 ayrıtı olan kaç cisim vardır?
- 9 ayrıtı olan kaç cisim vardır?

4

1

4

1

4

4

1



Biraz da Gülelim



Bir gün Nasreddin Hoca ve arkadaşları iddiaya tutuşmuşlar. Eğer Hoca karanlık ve soğuk bir gecede, sabaha kadar köy meydanında bekleyebilirse arkadaşları ona güzel bir ziyafet çekecekmiş. Şayet bunu beceremezse o, arkadaşlarına ziyafet çekecekmiş. Kararlaştırılan gün Hoca meydanın ortasında sabaha kadar tir tir titreyerek beklemiş. Sonra yanına gelenlere:

- Tamam demiş. İddiayı kazandım.
- Ne oldu, ne yaptın? demişler.
- Bekledim sabaha kadar, demiş.
- Hayır demişler. Sen uzaktaki bir mum ışığı ile ısınmışsın. İddiayı kaybettin! Ziyafetimizi hazırla. Hoca çaresiz kabul etmiş. Ziyafet vakti kocaman bir kazanın altına minicik bir mum koymuş. Güya yemek pişirecek.
- Ne yapıyorsun? demişler. Kıs kıs gülererek cevap vermiş:
- Bu mum sıcıyla size yemek pişireceğim arkadaşlar. Uzaktaki bir mum ışığıyla ben nasıl ısındıysam, bu kazandaki yemek de öyle pişecek!

☆ **Sence Hoca arkadaşlarına ne yemek pişiriyordu?**

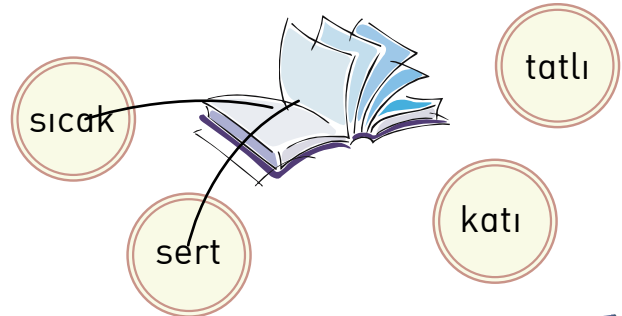
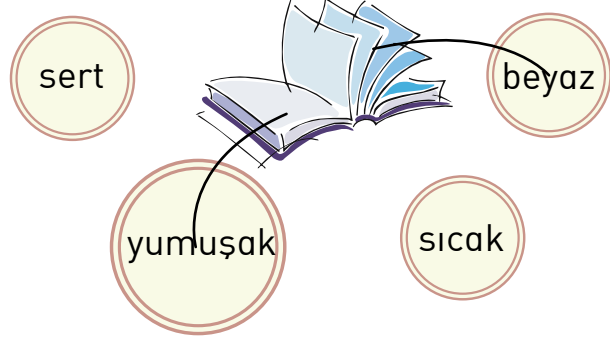
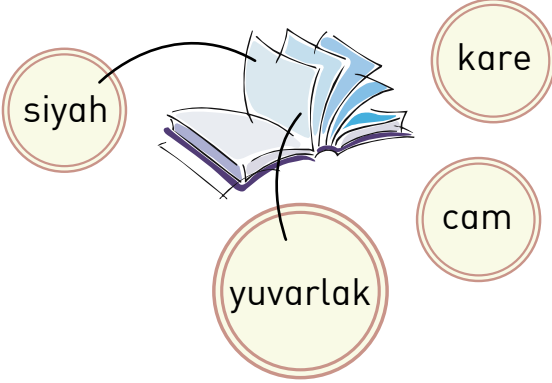
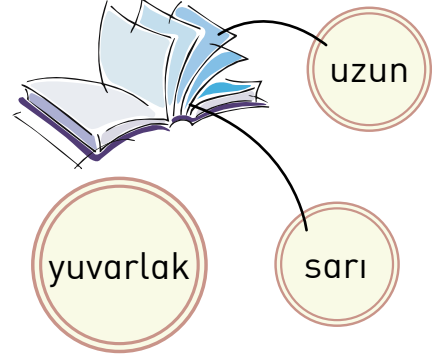
Su Kaynatıyordu.



Ön Adlar



Verilen varlıkları niteleyebilecek sözcükleri deftere taşıyın.



Problemse Çözeriz

1. Kitaplığımda 18 tane şiir, 22 tane bulmaca kitabı vardır. Kitaplarımın sayısının yarısı kaç tanedir?

20

Ü

2. 5 deste kalemi 5 arkadaş aralarında eşit olarak paylaştılar. Her biri kaç kalem almıştır?

10

E

3. Bir köylü pazara 3 sepet elma getirdi. Birinci sepette 74 elma vardır. İkinci sepetteki elma sayısı, birinci sepettekilerin sayısının yarısı kadardır. Üçüncü sepette ise ikisinin toplamının 20 eksiği kadardır. Üç sepette toplam kaç elma vardır?

$$\frac{1}{74}, \frac{2}{37}, \frac{3}{91}$$

202

G

4. Selin'in kütlesi 55 kilogramdır. Yasemin, Selin'den 7 kilogram ağırdır. Yasemin'in kütlesinin yarısı kaç kilogramdır?

31

L

5. Dolapta 34 tane tabak vardır. Tabakların 7 tanesi porselendir. Diğer tabakların üçte biri camdır. Cam tabaklar kaç tanedir?

9

Z

Şifre ⇒

202	20	9	10	31
G	Ü	Z	E	L





Pets

Count and write. There is one example for you.


1. How many **turtles** are there?

There are four turtles.




2. How many **rabbits** are there?

There are six rabbits.



3. How many **cats** are there?

There are nine cats.




4. How many **birds** are there?

There are eight birds.



5. How many **dogs** are there?

There are six dogs.



TADIMLIK

Bir gün Nasreddin Hoca eŖeđine bir bađdan iki kufe zm yklemiŖ, evine gidiyormuŖ.

Mahellenin ocukları:

"Hoca! Bize zm ver!" diye nn kesmiŖler.

Hoca Ŗyle bakmıŖ.  - beŖ ocuk deđil. Hepsine birer salkım verse bir kufe boŖalacak. Uzanan ellere tadımlık iki  tane zm koymaya baŖlamıŖ.

ocuklar, "Hoca! Bu ne kadarcık Ŗey." diye azımsamıŖlar.

"Evlatlarım!" demiŖ Hoca. Hepsinin tadı birdir. Ŗu kfelerdeki zmlerin tadı, bir tanesinin tadıyla aynıdır. Az yemiŖsin, ok yemiŖsin, hi fark etmez."

