

10.

f a s i k ü l

YAZ

2.
sınıf

→ TATİLİM ←

10 hafta 10 fasikül

Bilmeceler Deneyler

Okuma Anlama Metinleri

Şifreli işlemler


Bulmacalar

Fıkralar

çalışkan
yayıncıları

Hikâye Yazalım

Görselleri oluş sırasına göre numaralandırarak görsellere uygun hikâye yazın.



Parkta Futbol

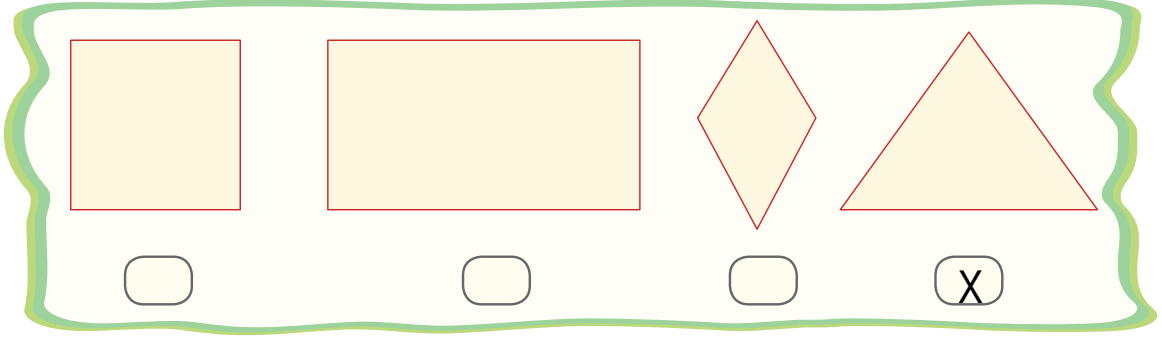
Yusuf - Davut parkta futbol oynuyordu. Fatih de parka doğru yürüyüşe çıkmıştı. Arkadaşlarını gördü. Onlara selam verip bir kenara oturdu. Arkadaşlarını izlemeye başladı. Yusuf ve Davut arkadaşları Fatih'in onları izlediğini görünce beraber top oynamaya ne dersin diye sordular, üçü birlikte futbol oynamaya başladılar. Birlikte Güzel bir gün geçirdiler.



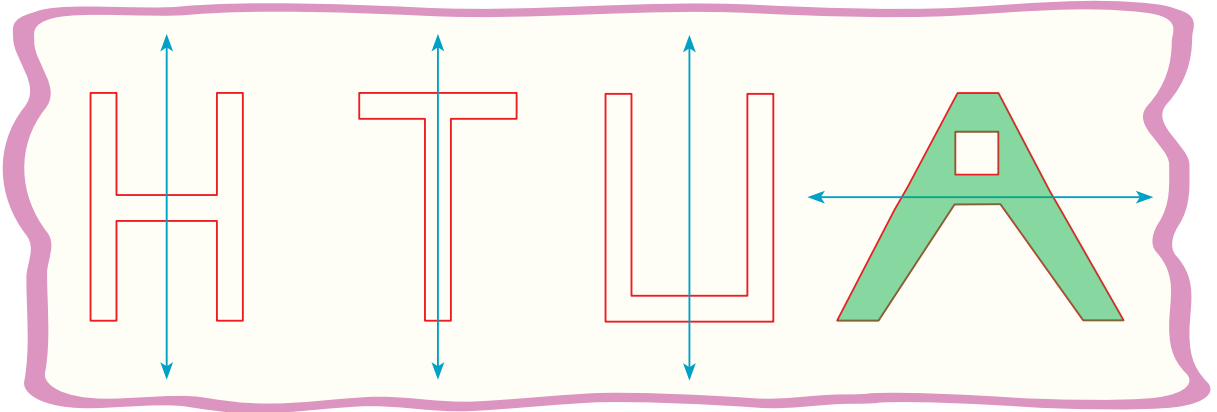


Simetri ve Simetri Doğrusu

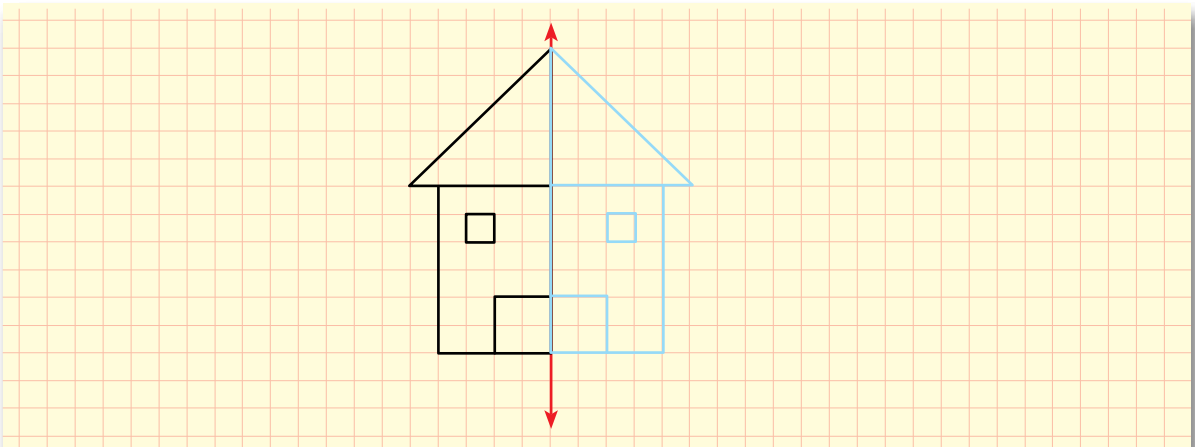
- Aşağıdaki şekillerden simetri doğrusu en az sayıda olanı işaretleyin.



- Aşağıdaki şekillerden simetri doğrusu yanlış çizileni boyayın.



- Şeklin simetrisini çizerek görseli tamamlayın.




Havanın Önemi

Malzemeler:

- 1 adet su bardağı
- 1 adet küçük mum
- Mumu sabitleştirmek için tabak
- Kibrit



ÖNEMLİ



Kibriti tek başınıza yakmayıp, bir büyüğünüzden yardım isteyin.

1. Mumu kibritle yakınız ve tabağa eriyen mumdan döküp, mumu üstüne yerleştirin.



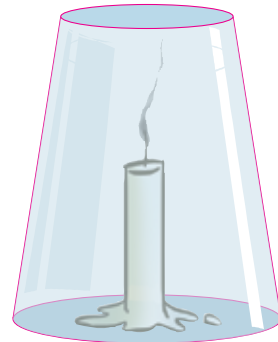
2. Yanan mumun üstüne bardağı kapatın.



3. Bardağın içindeki hava, bir süre sonra bittiği için mum yavaş yavaş sönecektir.

Unutmayalım

Her canlının yaşamak için havaya ihtiyacı olduğu gibi ateşin yanması için de havaya ihtiyacı vardır.





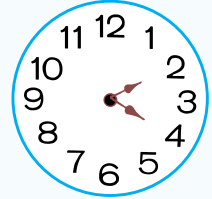
Saat Kaç?

Soruları okuyup, cevapları saatlerin üzerinde gösterin.

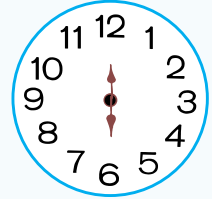
1. Saat 20.30'un 2 saat sonrasını gösterin.



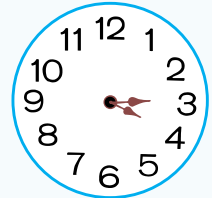
2. Saat 07.20'nin 5 saat öncesini gösterin.



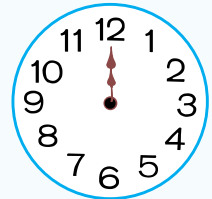
3. Saat 11.00'in 1 saat 30 dakika sonrasını gösterin.



4. Saat 02.30'un 50 dakika sonrasını gösterin.








5. Saat 17.00'nin 7 saat sonrasını gösterin.



Bilgiye Giden Yol

Değirmenin sıra numarasını takip ederek bilgiye ulaşın.

1. Alfabenin beşinci harfiyle başlayan kelime;
2. Birinci kutuya yazdığınız kelimenin baş harfinden sonra gelen harfle başlayan kelime;
3. Büyük kelimesinin zıt anlamlısı olan kelime;
4. Alfabemizde "u" harfinden sonra gelen harfle başlayan kelime;
5. Özel isim olan kelime;



1.

2.

3.

4.

5.

Dünyanın

en

küçük

ülkesi

vatikandır.



Okuma - Anlama

At ile Kurt

Kurt, kırlarda gezinirken bir at görmüş. "Al sana yiyecek", demiş. Sonra atın yanına gelmiş:

— At kardeş sen hastaya benziyorsun. Ben doktorum. Her şeyden anlarım, demiş.

At, kurdun düşüncesini anlamış ve

— Arka ayağımda bir yara var, demiş

Kurt:

— Aman at kardeş, ayak şakaya gelmez. Bir bakayım demiş. Sonra atın arkasına geçmiş.

At da yan gözle kurdu izliyormuş. Kurt arkasına sokulur sokulmaz çiftteyi basmış. Kurdun dişleri ağzına dolmuş. Korkudan bayılıp düşmüş.

Daha sonra kurt, ormanın yolunu tutarken:

— Oh, olsun bana! Doktorluk senin neyine, demiş.

La Fontaine



1. Metin ile ilgili soruların cevabı evet ise 😊, hayır ise 😞 sembolünü işaretleyin.

❖ Kurt, at mı gördü?



❖ Kurt veteriner mi?

❖ Atın arka ayağı yaralı mı?

❖ At kurdu yan gözle izledi mi?

❖ Kurdun burnu mu kırıldı?

❖ Kurt korkudan bayıldı mı?

2. Metindeki "yan gözle izlemek" deyiminin anlamı nedir?

Çaktırmadan izlemek denir.

3. Metindeki kurt ile atın kişilik özelliklerini yazın.



Kurnaz, Yalancı



Akıllı, sakin

4. Metnin ana fikri nedir?

Her söylenen söze inanmayın




Sözcükleri Doğru Yazalım


Görsellerin karşıladığı sözcüklerin doğru yazımını işaretleyin.



- kibrit
 kiprit



- kirbik
 kirpik



- bisikled
 bisiklet



- gazte
 gazete



- yağmur
 yamur




- ağaç
 ağaç



- ayakkabı
 ayakabı



- çiçek
 çiçek



- havuc
 havuç

- yanlış
 yalnış

- herkes
 herkeş

- yalnız
 yanlız



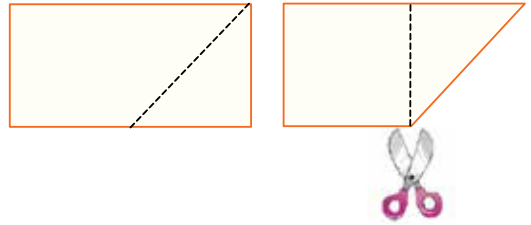
Yıldız Yapalım

Malzemeler:

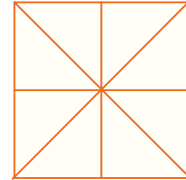
- Renkli elışı kâğıtları
- Kalem
- Makas
- Yapıştırıcı



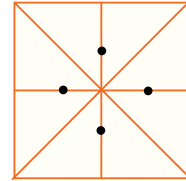
1. Aldığınız renkli elışı kâğıdını eninden boyuna katlayın. Tekrar açıp oluşan çizgiden kesin. Kareniz hazır.



2. Kare kâğıdı önce dörde katlayıp sonra çapraz katlayın.



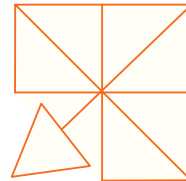
3. Karenin ortasını belirleyip nokta koyup makas yardımıyla kesin.



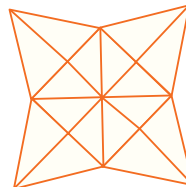
4. Kesilen kenardan katlayın.



5. Aynı şekilde dört kenarını da katlayıp yapıştırıcı sürün.



6. Yapıştırıcı sürdüğünüz tarafın üstüne yapıştırın. Dört bir tarafı da aynı şekilde yapıştırın.



7. Ters çevirin, yıldızınız hazır.



Sıvıları Ölçüyoruz



1 L = 2 yarım litre eder.

1 L = 4 çeyrek litre eder.



Hatırlayalım

Süt, zeytinyağı, kolonya gibi sıvıları ölçerken temel ölçü birimi olan litre kullanır.

Aşağıdaki ifadelerden noktalı yerleri uygun biçimde tamamlayın.

4 litre =8..... yarım L

14 çeyrek litre =7..... yarım L

6 litre =24..... çeyrek L

20 yarım litre =10..... litre

3 litre =6..... yarım L

8 yarım litre =16..... çeyrek L

Aşağıdaki cümleleri okuyunuz. Doğru olanların yanına "D", yanlış olanların yanına "Y" koyunuz.

(D) 1. 19 L zeytinyağın 5 litresini tüketirsek geriye 14 L zeytinyağı kalır.

(Y) 2. 4 L'lik sütü yarım litrelik şişelere koymak istersek 5 şişeye ihtiyaç duyarız.

(Y) 3. 20 L benzinin yarısını kullanırsak 15 L benzinimiz kalır.

(Y) 4. Her gün yarım L süt içen Zehra bir haftada 9 L süt içer.

(D) 5. Litresi 4 lira olan meyve suyundan 3 litre alırsam 12 lira ederim.


2. Sınıf Yaz Tatilim / 10. fasikül



Sudoku

Bu bulmacada eksik rakamlar nerede?

Her satırda ve sütunda rakamları (1, 2, 3, 4 ve 5) yalnızca bir kez kullanmalısın.



5	4	3	1	2
2	1	5	3	4
1	3	2	4	5
4	2	1	5	3
3	5	4	2	1



Kelime Avı

Kutulardaki harflerin arasına dört harfli kelimeler gizlenmiş.
Örnekteki gibi kelimeleri bulun.

A	L	İ
C	K	T
U	R	S

KURT

E	S	Ş
T	D	E
P	İ	K

EŞEK

İ	L	K
T	E	İ
K	İ	L

TEKİ

E	D	Ü
D	K	O
E	U	N

KONU

K	M	Y
T	A	A
İ	L	E

YAMA

J	İ	N
E	L	E
L	İ	F

LİFT

P	İ	Ş
S	V	İ
P	İ	K

SIVI



Sıvıları Ölçelim

Aşağıdaki görselleri inceleyip soruları cevaplayın.



Portakal suyu



Su



Limonata



Süt

1. 10 litre sütün 2 yarım litresi satıldı. Geriye kaç litre süt kaldı?

$$10 - 1 = 9 \text{ litre}$$

2. 6 litre limonata yarım litrelik kaç şişeye dolduralabilir?

2 şişe

3. 4 litre suyun 4 yarım litresi kullanıldı. Geriye kaç litre su kaldı?

$$4 - 2 = 2 \text{ litre}$$

4. Görsellerdeki sıvıların toplamı kaç yarım litredir?





$$2 + 4 + 6 + 10 = 22 \times 2 = 44 \text{ yarım litre}$$



Animals

Solve the puzzle below. There is one example for you.

V	H	S	N	A	K	E	F	E	K	C	I	J
P	A	T	G	O	A	T	V	L	J	H	N	C
W	N	P	E	S	L	V	I	E	W	B	B	H
L	Y	L	S	E	A	B	R	P	X	L	F	I
T	P	J	P	U	H	V	C	H	H	E	T	C
E	R	S	L	I	O	N	F	A	J	X	J	K
V	P	E	I	F	R	D	C	N	W	V	T	E
D	U	L	O	I	S	E	P	T	O	S	G	N
U	D	O	N	K	E	Y	U	Z	Z	J	A	D
C	C	L	C	B	W	X	J	F	Z	V	J	V
K	F	M	O	N	K	E	Y	L	S	X	Z	F
X	R	Y	W	M	R	V	S	B	T	G	S	Z



~~horse~~

~~cow~~

~~goat~~

~~donkey~~

~~snake~~

~~chicken~~

~~duck~~

~~lion~~

~~monkey~~

~~elephant~~

BENİM İÇİN SAVURGAN DİYEN Mİ OLDU

Bir gün Nasreddin Hoca hurma yerken karısı bakmış çekirdekleri çıkarmıyor.

"Efendi! Hurmanın çekirdeğini çıkarmadan mı yiyorsun?" diye sormuş.

"Niye çıkarayım!" demiş Hoca. "Ben onu satın alırken yemişçi çekirdeğini daraya sayıp fiyatından düştü mü ki? Eğer çekirdeği atılacak olsaydı parayla satılmazdı. Ben ona onca parayı verdikten sonra atar mıyım? Yoksa benim için savurgandır diyen mi oldu sana?"

