

9.

f a s i k ü l

YAZ

3
• sınıf

→ TATİLİM ←

10 hafta 10 fasikül

Bilmeceler Deneyler

Okuma Anlama Metinleri

Şifreli işlemler

Bulmacalar

Fıkralar

çalışkan
yayıncıları

Oluř Sırası

Ařağıdaki cümleleri okuyarak cümlelerdeki olayları oluř sırasına göre numaralandırın. Boř satırlara önce, sonra, daha sonra, sonunda ve en sonunda kelimelerini kullanarak paragraf řeklinde yazın.

Servisle okula geldim.

5

Üstümü giyinip kahvaltımı yaptım.

2

Pencereyi açtığımda kuř seslerini duydum.

1

Ödevlerimi çantama koydum.

3

TV izlerken koltukta yorgunluktan uyumuřum.

7

Okul çıkışında bizim bahçede top aynadık.

6

Evden çıkarken anneme, babama el salladım.

4

Pencereyi açtığımda kuř seslerini duydum. Önce üstümü giyinip kahvaltımı yaptım. Sonra ödevlerimi çantama koydum. Daha sonra evden çıkarken anneme-babama el salladım. Sonunda servisle okula geldim. En sonunda TV izlerken koltukta yorgunluktan uyumuřum.





Hangisiyle Ölçülüyorum


Görselleri inceleyelim. Ölçüm çeşitlerini işaretleyelim.



Kilogram
Litre




Kilogram
Litre



Kilogram
Litre



Kilogram
Litre



Kilogram
Litre



Kilogram
Litre



Kilogram
Litre



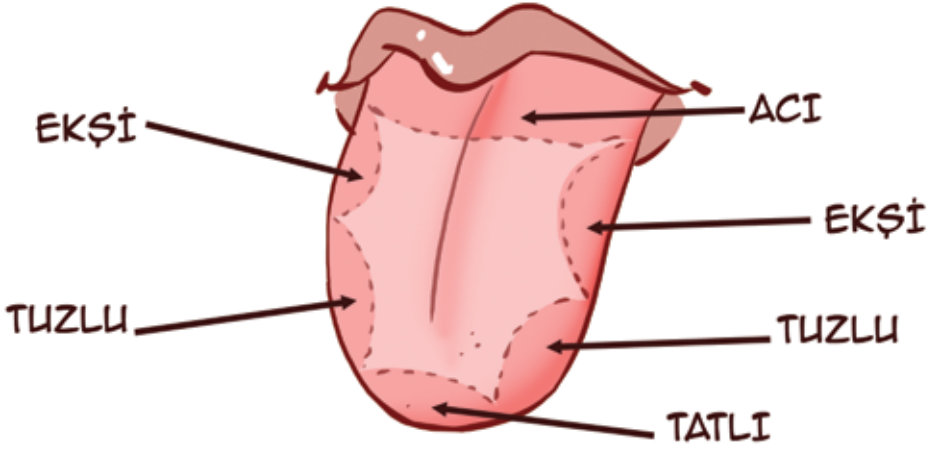
Kilogram
Litre



Kilogram
Litre



Yiyeceklerin Tadı



Farklı tatlıları, dilimizin farklı bölgeleri algılar. Ellerimizi iyice yıka-
dıktan sonra parmağımızı toz şeker batırıp dilimizin önce arka sonra yan
sonra da ön tarafa sürelim.

Dilimizin hangi bölgesi şekerin tadını alabildi?

Ön bölgesi

Ağzımızı iyice çalkaladıktan sonra parmağımızı bir miktar limona
batırıp dilimizin önce arka sonra yan sonra da ön tarafa sürelim.

Dilimizin hangi bölgesi ekşi tadı alabildi?

Sağ tarafı

Ağzımızı iyice çalkaladıktan sonra parmağımızı bir miktar acı bibe-
re batırıp dilimizin önce arka sonra yan sonra da ön tarafa sürelim.

Dilimizin hangi bölgesi acının tadını alabildi?

Arka tarafı

Ağzımızı iyice çalkaladıktan sonra parmağımızı bir miktar tuza batı-
rıp dilimizin önce arka sonra yan sonra da ön tarafa sürelim.

Dilimizin hangi bölgesi tuzun tadını alabildi?

Sol ön tarafı

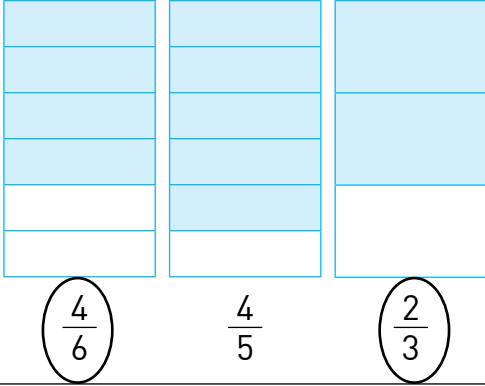




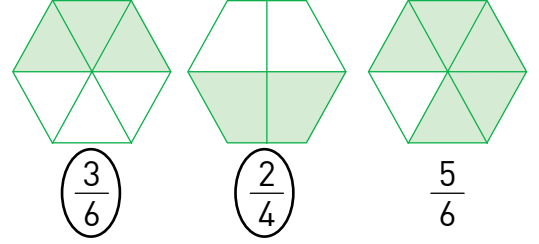
Eşitler Nerede?

Şekilleri inceleyip eşit olan kesir sayılarını daire içine alın.

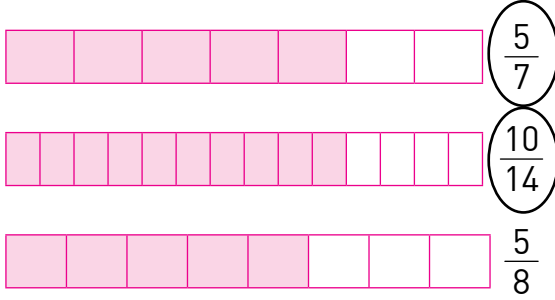
1.



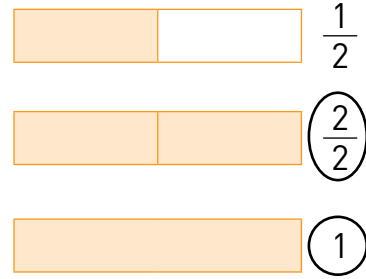
2.



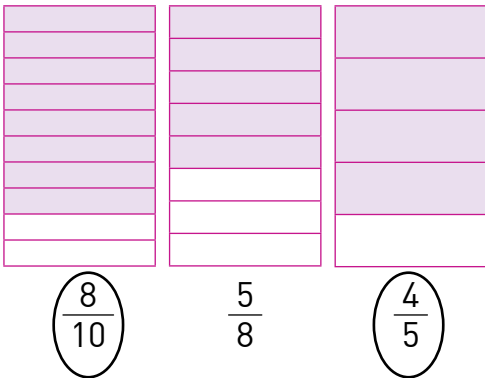
3.



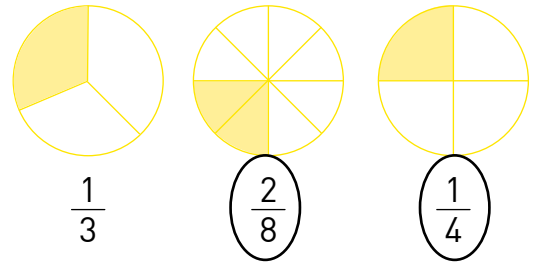
4.



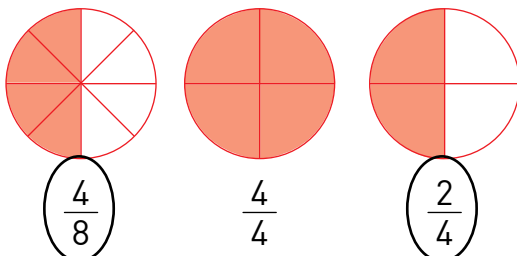
5.



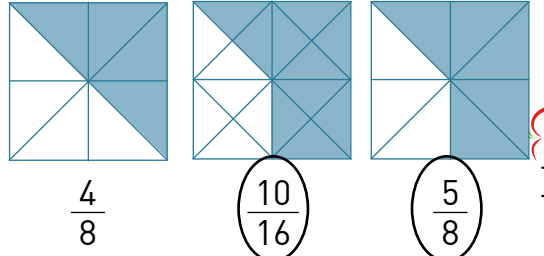
6.



7.



8.



Anahtar Kelimeler

Resmin iine saklanan kelimeleri bulup anlamlı ve kurallı bir cümle yaparak bilgiye ulaşın.



Dünyanın birgünde en hızlı büyüyen bitkisi bambu, günde 90 cm kadar uzuyor.



Tarla Kuşu ile Yavruları

Bir tarla kuşu varmış. Buğdaylar yetişirken kendisine bir yuva yapmış. Her gün birer yumurta yapıp üzerine yatmış. Bir süre sonra yavruları yumurtadan çıkmış. Yiyecek aramaya giderken yavrularını sık sık uyarırmış.

"Aman yavrularım yarın tarla sahibi gelince kulak verip dinleyin. Ne konuştuklarını öğrenin. Biz de ona göre davranalım."

Tarla kuşu gidince, tıpkı söylediği gibi tarla sahibi ve oğlu gelmiş. Tarla sahibi oğluna dönüp:

"Tamam buğdaylar olgunlaştı. Bugün git komşulara haber ver. Babam ekinleri biçmek için sizleri imeceye çağırıyor, de. Yarın erkenden orakları alsın gelsinler, demiş."

Tarla kuşu yuvasına dönünce "Ne oldu? Çiftçi neler söyledi?" diye sormuş. Komşularına haber verdi. Yarın sabah yardıma gelmelerini söyledi.

Tarla kuşu: Öyleyse hiç korkmayın demiş. Yer değiştirmemiz için daha vakit var. Yarın gene dinleyin bakalım neler konuşacaklar?

Ertesi gün tarla kuşu gene yiyecek toplamaya gitmiş. Tarla sahibi gene oğluyla birlikte gelmiş. Gördün mü komşuların bize ettiğini? Git bari akrabalara haber ver, yarın sabah erkenden burada olsunlar.

Yavrular bu defa daha çok korkmuşlar. Anneleri gelince her şeyi anlatmışlar. Tarla kuşu gene aldırmamış. Siz rahatınıza bakın, demiş.

Ertesi gün tarla kuşu gene gün doğmadan yiyecek toplamak için yola çıkmış. Bir süre sonra çiftçi oğlu ile gelmiş. Gelip gidenin olmadığını görünce oğluna dönmüş, "Biz hata ettik oğlum." demiş. Komşuya, akrabaya güvenme-

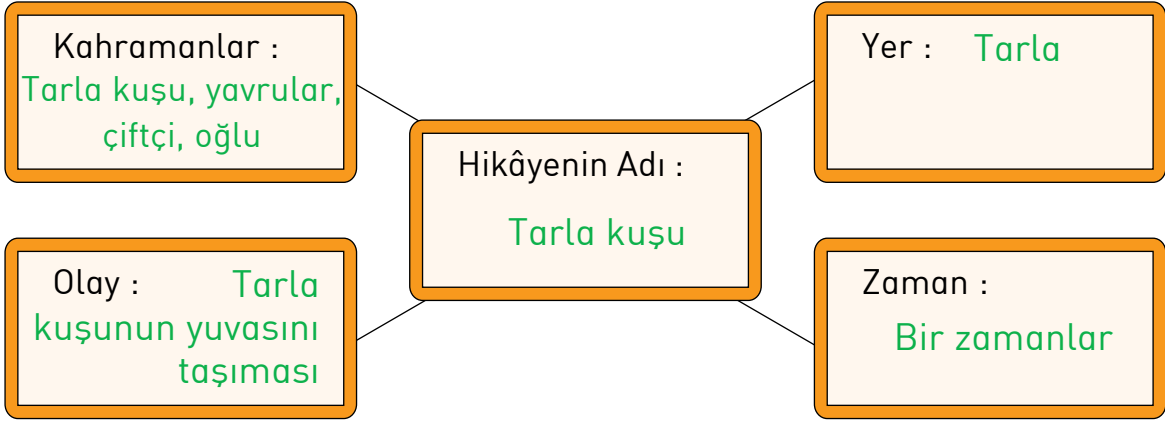


yecektik. Dostun, akrabasının da en iyisi insanın kendisidir oğlum, bunu hiç unutma. Yarın çoluk çocuk orakları alıp ipe kendimiz girirelim. İpin en iyisi bu." demi.

Akşam yuvasına dönen tarla kuşu bu haberi almış, "İimdi ipe ciddi. Hemen açayım kanatları." demi. Yavrularını peşine takıp terketmiş yuvasını.

Hani ne derler insanın dostu da kendisidir, düşmanı da. İnsan önce kendine güvenmeli... Ezop Masalı

Hikâye haritasını yapın.



Tarla sahibinin yerinde sen olsan nasıl davranırdın?

Kendi işimi kendim yapardım.

Okuduğun hikâyenin en beğendiğin yerini resimle.





Dikkat Heceler

Kelimelerden üç heceli olanları turuncu, dört heceli olanları yeşil renge boyayın.

eğitim	gazeteci	İstanbul	otomobil	karnıbahar
ıspanak	değirmen	barbunya	yumurta	olumsuzluk
Türkiye	anneanne	abide	kütüphane	çalışkan
Atabarı	yolculuk	eğlenceli	güvercin	gelinlikçi
kasaba	ayakkabı	merdiven	papağan	betimleme
biberon	bilgisayar	bisiklet	gözlükçüler	kahverengi

Tablodaki kelimeleri uygun olan ses özelliklerine göre işaretleyin.

Sözcükler	Kalın Sesli	İnce Sesli	Kalın + İnce Sesli
ev		✓	
çanta	✓		
bilgisayar			✓
telefon			✓
üzüm		✓	
fasulye			✓
kiraz			✓
salatalık	✓		

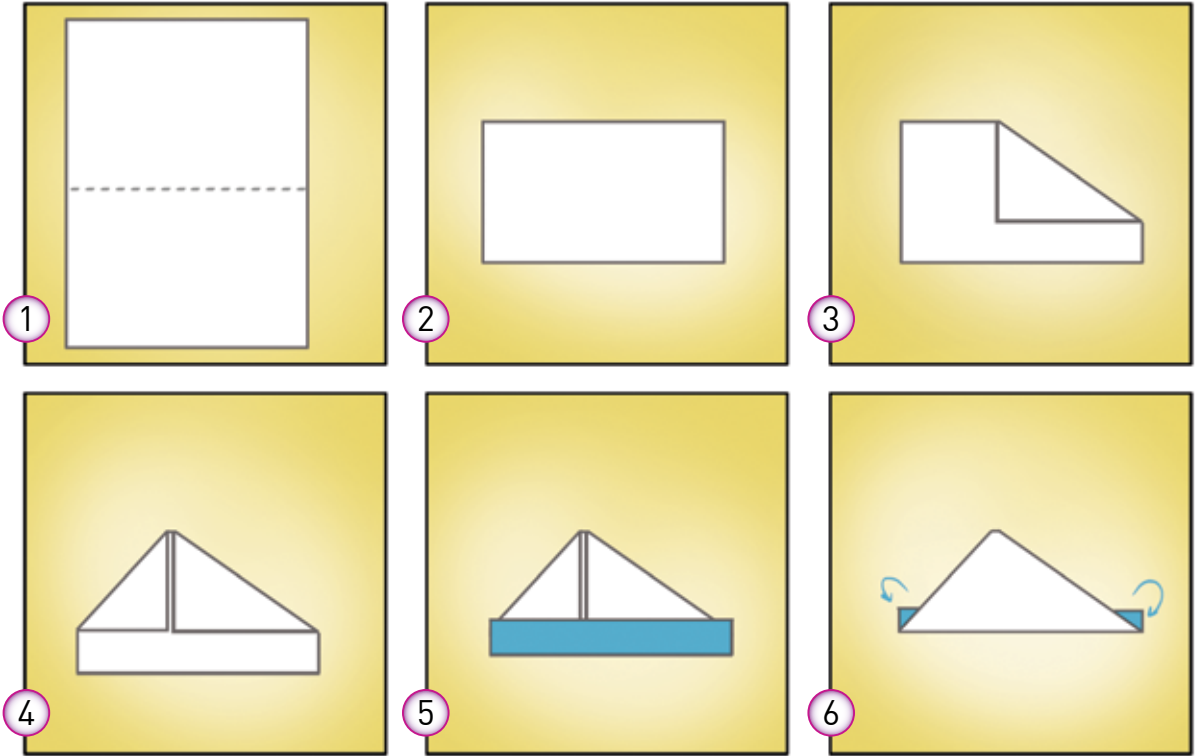


Kâğıttan Başlık

Bir dosya kâğıdını kısa kenarları üst üste gelecek şekilde iki kere katlayın. Katlama çizgisinin iyice belirlenmesi için elimizle bastırdıktan sonra ikinci katlamayı açalım.

Katlama çizgisinin belirlediği sırtın köşelerini ayrı ayrı tutup oluşan kat çizgisinin üzerine getirerek katlayalım. Başlığımızın üst kısmı tamam.

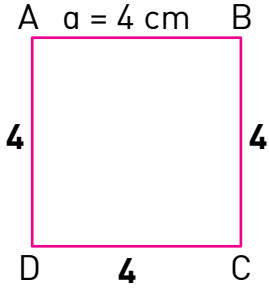
Şimdi de başlığın alt kısmında kalan iki ayrı şeridi yukarı doğru yani dışa doğru katlayalım. Şimdi başlığın altını üstüne çevirelim. Biraz önce katladığımız şeritlerin kenarlara çıkan üçgen kulaklarını da içe doğru başlığımızı saracak şekilde katlayalım. Başlığımız tamamdır.



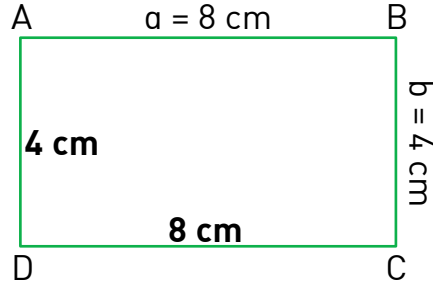


Çevremiz Ne Kadar?

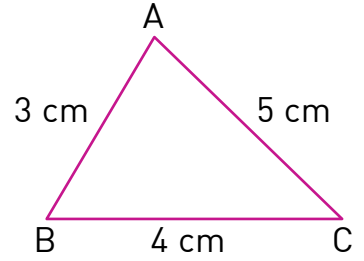
Aşağıdaki şekillerin çevresini hesaplayalım.



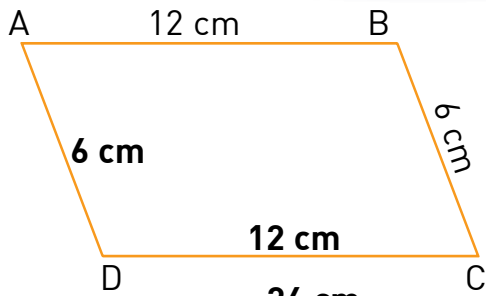
$$\text{Ç} = \dots 16 \text{ cm}$$



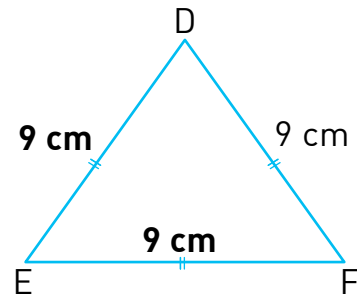
$$\text{Ç} = \dots 24 \text{ cm}$$



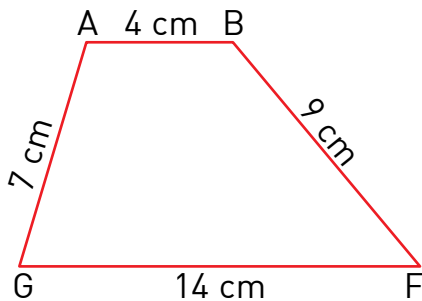
$$\text{Ç} = \dots 12 \text{ cm}$$



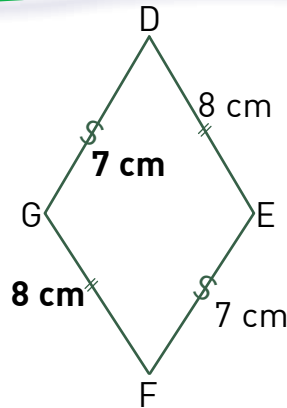
$$\text{Ç} = \dots 36 \text{ cm}$$



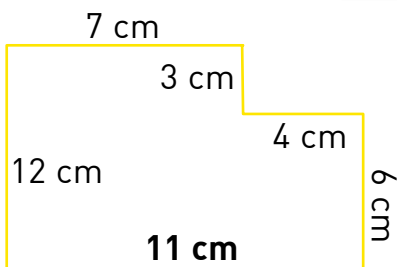
$$\text{Ç} = \dots 27 \text{ cm}$$



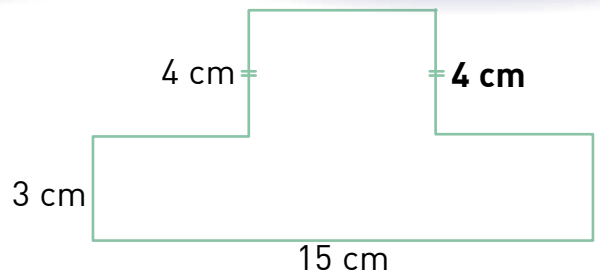
$$\text{Ç} = \dots 34 \text{ cm}$$



$$\text{Ç} = \dots 31 \text{ cm}$$



$$\text{Ç} = \dots 43 \text{ cm}$$



$$\text{Ç} = \dots 34 \text{ cm}$$

3. Sınıf Yaz Tatilim / 9. fasikül



Okuyalım, Gülelim



Deliler

Akıl hastanesindeki deliler bir araya gelip, kaçış planı yaparlar. Delilerden biri öne çıkar ve planı anlatır.


Büyük bir sopa bulacaız. İlk önce birinci kapıyı kıracaız. Daha sonra ikinci kapıyı, sonra da üçüncü kapıyı kıracaız ve herkes baının çaresine bakacak. Sabah olunca bir sopa bulurlar, doğruca kapıyı kırmaya giderler. 1. kapıyı kırarlar. Ardından 2. kapıyı kırarlar ve 3. kapının açık olduğunu gören deliler, plan bozuldu der ve geri dönerler.



İçinde Ben de Vardım


Hoca sokağa çıkar çıkmaz komşuları, "Hocam, akşam evden çok gürültü geliyordu." dediler. Hoca, "Evet cübbem merdivenlerden düştü, onun gürültüsü idi." der. "Aman Hocam cübbe düğünce gürültü olur mu?" dediklerinde Hoca, "Uzatmayın, içinde ben de vardım." der.



Mektupta geçen ön adların ,

adılların ,

eylemlerin  ile altını çizin.



Sevgili Arkadaşım,

Sen gittiğinden bu yana okulun ve sınıfın tadı kalmadı. Seninle ne güzel günler geçirmiştik. Yağmurlu havalarda da top oynayışlarımızı özledim. O renkli topu hatırlıyor musun? O top yuvarlanıp senin ayağının altına gelmişti. Sen gülümseyerek bana uzatmıştın. O an anladım ki sen benim dosttum olacaksın.

Canım arkadaşım yeni arkadaşların oldu mu? Yeni sınıfına, evine alışabildin mi? Umarım en yakın zamanda görürebiliriz. Tatil için bir şeyler düşünebiliriz.

Tüm sınıf arkadaşlarımızın sana selamı var. Hepsi seni çok özledi. Tabi en çok ben ...

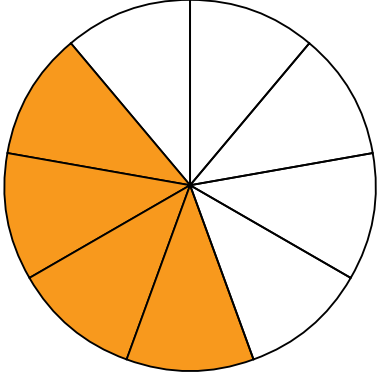
Hoşçakal dostum. Mektubunu bekliyorum. Anne ve babanın ellerinden öpüyorum.

Poyraz Pehlivan




Kesirler

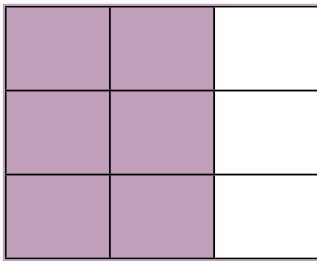
Şekillere denk gelen kesirleri yazıp inceleyin. Çıkardığınız sonucu yazın.



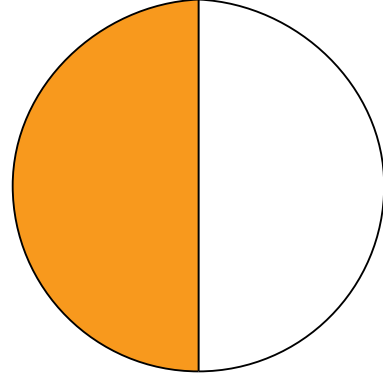
$$\frac{4}{9}$$




$$\frac{2}{6}$$




$$\frac{6}{9}$$



$$\frac{1}{2}$$



$$\frac{1}{3}$$



$$\frac{2}{3}$$

Sonuç :



Weather

Put the letters in the correct order and write them in the box below.



1. ysnnu



2. toh



3. oldc



4. wyons



5. ariyn



6. colydu



7. dnywi



8. wmra



9. icen

1. ...sunny.....

2. ...hot.....

3. ...cold.....

4. ...snowy.....

5. ...rainy.....

6. ...cloudy.....

7. ...windy.....

8. ...warm.....

9. ...nice.....



Alican'ın Maceraları



ALICAN, BUGÜNKÜ GİDECEĞİMİZ YER SAFRANBOLU OLSUN MU?

YOLCULUK HANGİ YÖNE DEDE?

TÜRKİYE'NİN KUZEYİNE DOĞRU.

BEN HAZIRIM.

ARIF AMCA'NIN GETİRDİĞİ SAFRANBOLU LOKUMLARINDAN GETİR BAKALIM DA AĞZIMIZ TATLANSIN.

ONLAR ORDAAN MI GELDİ? DAHA Bİ MERAK ETTİM ŞİMDİ.

SAFRANBOLU, KARABÜK İLİNİN EN BÜYÜK VE GELİŞMİŞ İLÇESİDİR. SAFRANBOLU'NUN EV MİMARİSİ ÇOK ÖNEMLİDİR.

EVLERİ Mİ?

EVET, OSMANLI ŞEHİR MİMARİSİNİ YANSITIR. BU YÜZDEN DE 17 ARALIK 1994 TARİHİNDEN BERİ TÜRKİYE'DE DÜNYA MİRAS LİSTESİ'NDEKİ VARLIKLARDAN BİRİDİR.

SAFRANBOLU DA TARİH KOKUYOR DESENE DEDE.

EVET ALICAN. TARİH BOYUNCA İDARİ VE TİCARİ BİR MERKEZ OLMUŞTUR. BİRÇOK MEDENİYETE EV SAHİPLİĞİ YAPMIŞTIR.

TÜRKİYE'DE BİRÇOK YERDE TARİH TAHİRİP OLMUŞTUR. ANCAK SAFRANBOLU BUNDAN AZ ETKİLENMİŞTİR. BU YÜZDEN DE "DÜNYA KENTİ" ÜNVANINI ALMIŞTIR.

HER YIL SAFRANBOLU'YA BİNLERCE TURİST GELMEKTEDİR.

KIYMETİNİ BİLMEMİZ GEREKEN BİR YER DAHA.

EVET ALICAN. SİZ ÇOCUKLARA ÇOK İŞ DÜŞÜYÖR.

